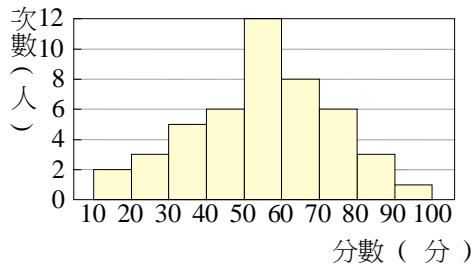
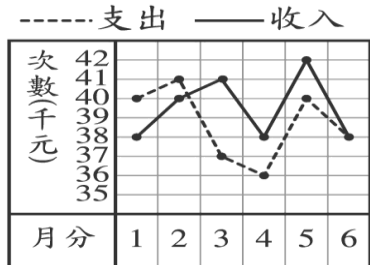


7. 下圖是某班第二次段考數學成績的次數分配直方圖



- (1) 分為幾組? 組距是多少? (2) 80~100分有幾人?
 (3) 不及格(未滿60分)有幾人?(4) 數學成績第10名在哪一組?

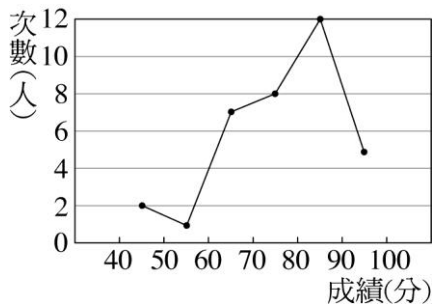
8. 王先生今年上半年的收支情形如下折線圖所示, 請問:



- (1) 收入最多是_____月, 支出最少是_____月。
 (2) 結餘最多是_____月。收支平衡是_____月
 (3) 王先生上半年結餘或透支_____元。(結餘或透支)

9. 下表為三年愛班數學成績的統計表, 請問:

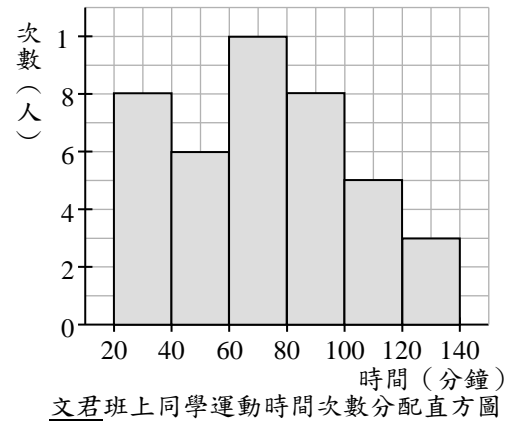
- (1) 共有幾組? 組距為多少?
 (2) 不及格有幾人?
 (3) 全班有多少人?
 (4) 及格者(60分以上)占全班的百分比?(四捨五入取到小數第一位)



10. 士林國中一年丁班有40位學生, 某次數學科測驗成績的次數分配表如下, 但中間有部分被塗汙, 請算出60~90分的人數占全班人數的百分比為多少?

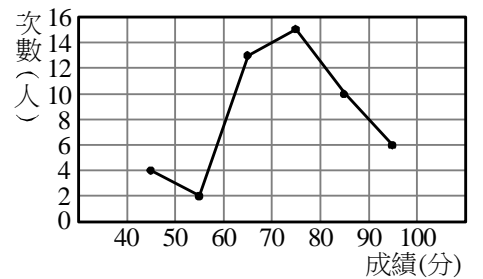
成績(分)	40~50	50~60		80~90	90~100
次數(人)	3	7		6	4

11. 右圖是文君班上同學放學後運動時間的次數分配直方圖, 回答下列問題:

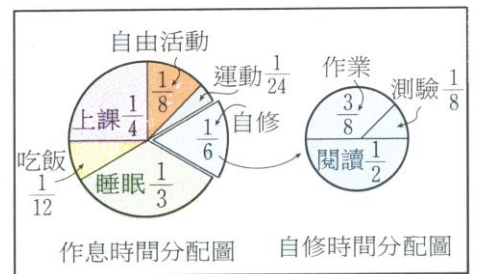


- (1) 運動時間未滿60分鐘有多少人?
 (2) 運動時間在80分鐘以上和不到80分鐘相差多少人?

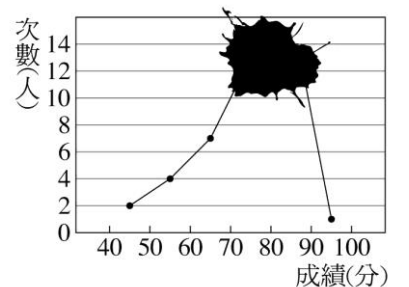
12. 右圖是某次數學成績的次數分配折線圖, 若將此資料繪製成圓形圖, 則不及格(未滿60分)部分的圓心角為幾度?



13. 創創將他每天的作息時間分配如右圖, 求
 (1) 每天吃飯幾小時?
 (2) 每天測驗幾小時?



14. 右表為阿寶班上同學生物成績的次數分配折線圖, 可是被家裏養的小烏龜弄髒了, 只知道不及格(未滿60分)的人占全班的15%, 則



- (1) 全班有多少人?
 (2) 70~90分佔全班多少百分比?