

1-2 等差級數

1. 等差級數的和

2. 等差級數和的公式

1 等差級數的和

對應能力指標 8-n-06

動畫 在下水道工程的工地旁放著一堆水管(如圖 1-1)，翰翰想知道這堆水管共有多少根。

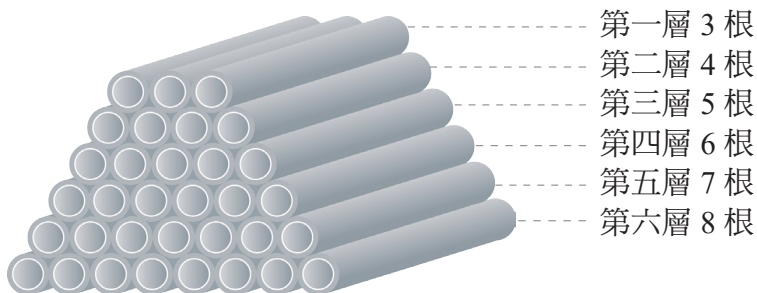


圖 1-1

將圖 1-1 上下顛倒成為圖 1-2，再將圖 1-1 與圖 1-2 拼成圖 1-3。




圖 1-2




圖 1-3

圖 1-3 中共有 6 層水管，每層的水管都有 11 根，因此總共有 6×11 根水管，而這恰好是圖 1-1 的兩倍，所以圖 1-1 中的水管共有 $\frac{6 \times 11}{2} = 33$ 根。

被譽為「數學王子」的德國數學家高斯(Carl Friedrich Gauss, 1777-1855)，小時候就用過類似的方法計算這類的問題。據說，在高斯十歲那年，有一天老師要求全班同學計算出 $1+2+3+4+5+\dots+98+99+100$ 的和。當老師將題目寫完後不久，高斯就在他的小石板上寫出 5050，並舉手告訴老師這個答案。你知道高斯是怎麼算出來的嗎？

加強

教學時數

■ 5小時

活動 1 認識等差級數，並從少數項的實例中，理解等差級數 n 項和的求法。

教學眉批

- 利用高斯的方法就可以求出等差級數的和。
- 數列以觀察各項間的關係為重點，而級數則以觀察全體的式子為重點，在解題時也常利用數列的公式。

注意事項

- 等差級數求和公式的建立，依下列三個步驟進行：
 - (1) 圖像說明。
 - (2) 有限項的求和方法。
 - (3) 符號化的求和公式。



會考觀測站 — 加強演練題 搭配課文

- 已知 $1+2+3+\dots+100=5050$ ，求 $1+2+3+\dots+100+99+98+\dots+1$ 的和。 10000



備課教學資源

- 補救教學·計算 Basic 1-2
- 免試加強類題本 1-2

教學眉批

- S 常用來表示和，在這裡令 $1+2+3+\dots+100$ 的和為 S 。
- 先用實例介紹級數，再說明等差級數，然後利用文字符號重新教授等差級數的意義。
- 等差級數求和的方法其實與高斯的方法相同，但用符號推導有其難度，教學時應先熟練較少項求和，以建立方法，之後再學習一般式的符號表示。
- 當等差級數的首項、末項及項數都知道時，即可以高斯的作法求得等差級數的和。

轉Q 關鍵提問

- 仿照高斯的作法， $13+15+17+19+21$ 的和是多少呢？
答：85。

要計算 $1+2+3+\dots+98+99+100$ 的和，可以先假設

$$S=1+2+3+\dots+98+99+100 \quad \leftarrow \text{由小到大}$$

同樣地，也可以寫成

$$S=100+99+98+\dots+3+2+1 \quad \leftarrow \text{由大到小}$$

將兩式相加可得：

$$\begin{array}{r} S = 1 + 2 + 3 + \dots + 98 + 99 + 100 \\ +) S = 100 + 99 + 98 + \dots + 3 + 2 + 1 \\ \hline 2S = 101 + 101 + 101 + \dots + 101 + 101 + 101 \quad \leftarrow \text{共 100 個 101} \end{array}$$

所以 $2S=101 \times 100$

$$S = \frac{101 \times 100}{2} = 5050$$

放大 隨堂練習

放大
提問
解
▲
▼

仿照高斯的作法，求 $43+45+47+49+51$ 的和。

$$\text{設 } S=43+45+47+49+51$$

$$S=43+45+47+49+51$$

$$+) S=51+49+47+45+43$$

$$2S=94+94+94+94+94$$

所以 $2S=94 \times 5$ ，

$$S = \frac{94 \times 5}{2} = 235$$

因此 $43+45+47+49+51=235$ 。

將數列的各項用加號「+」連接而成的式子稱為**級數**。例如：

$2, 4, 5, 7, 9$ 是一個數列， $2+4+5+7+9$ 就是一個級數。

當 $a_1, a_2, a_3, \dots, a_n$ 為等差數列時，將此數列的各項依序用加號「+」連接，所得的式子 $a_1+a_2+a_3+\dots+a_n$ 就稱為**等差級數**。

在高斯計算 $1+2+3+\dots+99+100=5050$ 的式子中，

$1+2+3+\dots+99+100$ 是一個等差級數，5050 是此等差級數的和。

基礎



會考觀測站 — 基礎演練題 搭配課文

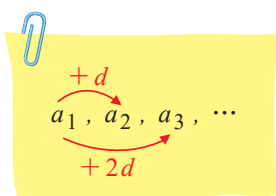
- (B) 1. 有一級數 $a_1=1, a_2=1$ ，且 $a_{m+2}=a_{m+1}+a_m$ ，則此級數前 6 項的和為多少？
(A) 19 (B) 20 (C) 21 (D) 22
- (D) 2. 有一個等差級數 $a_1+a_2+\dots+a_n$ ，其和為 S_n ，則各項皆加上 5 後所成的新等差級數，其和為 T_n ，則下列何者正確？
(A) $S_n=T_n$ (B) $T_n=5S_n$ (C) $T_n=S_n+5$ (D) $T_n=S_n+5n$

動畫

2 等差級數和的公式

對應能力指標 8-n-06

若一個等差級數的首項為 a_1 ，公差為 d ，第 2 項為 a_2 ，……，第 n 項為 a_n ，其前 n 項的和可記為 S_n ，即 $S_n = a_1 + a_2 + a_3 + \cdots + a_n$ 。
接下來將依照高斯的做法，推導出等差級數和的公式。



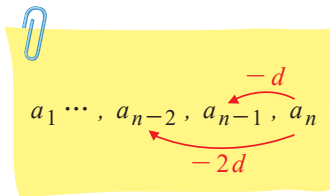
因為

$$a_2 = a_1 + d$$

$$a_3 = a_1 + 2d$$

⋮

$$a_n = a_1 + (n-1)d$$



$$a_{n-1} = a_n - d$$

$$a_{n-2} = a_n - 2d$$

⋮

$$a_1 = a_n - (n-1)d$$

所以 S_n 也可以寫成下列兩種形式

$$S_n = a_1 + (a_1 + d) + (a_1 + 2d) + \cdots + [a_1 + (n-1)d]$$

$$+) S_n = a_n + (a_n - d) + (a_n - 2d) + \cdots + [a_n - (n-1)d]$$

$$2S_n = \underbrace{(a_1 + a_n) + (a_1 + a_n) + (a_1 + a_n) + \cdots + (a_1 + a_n)}_{\text{共有 } n \text{ 個 } (a_1 + a_n)}$$

$$2S_n = n(a_1 + a_n)$$

$$\text{即 } S_n = \frac{n(a_1 + a_n)}{2}。$$

放大



等差級數和的公式（一）

等差級數的和 = $\frac{\text{項數} \times (\text{首項} + \text{末項})}{2}$ ，即 $S_n = \frac{n(a_1 + a_n)}{2}$ 。

基會

活動 2 推導出等差級數 n 項和的公式

$$S_n = \frac{n(a_1 + a_n)}{2}，$$

並應用公式解題。

! 注意事項

- 為了使等差級數和的公式易於說明，必須先發展出 $S_n = a_n + (a_n - d) + (a_n - 2d) + \cdots + (a_1 + 2d) + (a_1 + d) + a_1$ 這個式子；它其實是將原等差級數的末項做為首項，原首項做為末項，而原公差 d 轉變為新公差 $-d$ 。教學時，可用例題 1 為實例詳加說明。



93 基測 II 第 18 題 搭配課文

(C) 求等差級數 $4 + 7 + 10 + \cdots + 100$ 的和為何？

- (A) 1568 (B) 1664 (C) 1716 (D) 1768

教學眉批

- 例題 1 與例題 2 的不同處在於：例題 1 中，項數可直接由題目得知。
- 例題 2 中，已知 a_1 、 a_n ，要求 S_n 。但公式 $S_n = \frac{n(a_1+a_n)}{2}$ 中尚需知道 n ，因此利用前一節所學第 n 項公式先求出 n ，再代入計算。

基會試題

- 93 基測 II 第 18 題

放大例 1 利用 $S_n = \frac{n(a_1+a_n)}{2}$ 求和

配合習作 P8 基礎題 1

等差級數 $5+8+11+\cdots+32$ 共 10 項，求此級數的和。

解 首項 $a_1=5$ ，項數 $n=10$ ，末項 $a_{10}=32$ 。

代入公式 $S_n = \frac{n(a_1+a_n)}{2}$ 得

$$S_{10} = \frac{10 \times (5+32)}{2} = 185$$

此級數的和為 185。

放大隨堂練習

解 等差級數 $23+27+31+\cdots+107$ 共 22 項，求此級數的和。

首項 $a_1=23$ ，項數 $n=22$ ，末項 $a_{22}=107$ 。

代入公式 $S_n = \frac{n(a_1+a_n)}{2}$ 得

$$S_{22} = \frac{22 \times (23+107)}{2} = 1430$$

此級數的和為 1430。

放大例 2 先求 n ，再代入 $S_n = \frac{n(a_1+a_n)}{2}$ 求和

基會

配合習作 P8、9
基礎題 2、3、6

動畫 求等差級數 $41+38+35+\cdots+5$ 的和。

解 思路分析

(1) 先利用公式 $a_n = a_1 + (n-1)d$ ，求得項數。

(2) 再利用公式 $S_n = \frac{n(a_1+a_n)}{2}$ ，求得總和。

首項 $a_1=41$ ，末項 $a_n=5$ ，公差 $d=38-41=-3$ 。

代入公式 $a_n = a_1 + (n-1)d$ ，得

$$5 = 41 + (n-1) \times (-3)$$

$$n = 13$$

$$\text{因此 } S_{13} = \frac{13 \times (41+5)}{2} = 299$$

即 $41+38+35+\cdots+5=299$ 。

基礎



會考觀測站 — 基礎演練題 搭配例 2、3

- (C) 1. $5+5\frac{2}{5}+5\frac{4}{5}+\cdots$ 到第 16 項的和為下列何者？
 (A) 120 (B) 124 (C) 128 (D) 132
- (C) 2. 計算 $6+12+18+\cdots+66=?$
 (A) 342 (B) 360 (C) 396 (D) 504

放大 隨堂練習

求下列各等差級數的和：

解

(1) $2+6+10+\cdots+42$

$a_1=2, d=4, a_n=42$, 代入公式 $a_n = a_1 + (n-1)d$ 得

$$42 = 2 + (n-1) \times 4$$

$$42 = 2 + 4n - 4$$

$$n = 11$$

代入公式 $S_n = \frac{n(a_1+a_n)}{2}$ 得 $S_{11} = \frac{11 \times (2+42)}{2} = 242$

解

(2) $5+1+(-3)+\cdots+(-39)$

$a_1=5, d=-4, a_n=-39$, 代入公式 $a_n = a_1 + (n-1)d$ 得

$$-39 = 5 + (n-1) \times (-4)$$

$$-39 = 5 - 4n + 4$$

$$n = 12$$

代入公式 $S_n = \frac{n(a_1+a_n)}{2}$ 得 $S_{12} = \frac{12 \times [5 + (-39)]}{2} = -204$

由 1-1 節所學的 $a_n = a_1 + (n-1)d$, 代入公式 $S_n = \frac{n(a_1+a_n)}{2}$, 可得

$$S_n = \frac{n[a_1 + a_1 + (n-1)d]}{2} = \frac{n[2a_1 + (n-1)d]}{2}。$$

因此, 在不知道末項 a_n 的情形下, 也可以直接由首項 a_1 、公差 d 與項數 n 求出等差級數的和。

放大 等差級數和的公式 (二)

$$S_n = \frac{n[2a_1 + (n-1)d]}{2}$$



數學小語錄

知識就是力量。

—培根 (Francis Bacon, 1561-1626)

基礎

活動3 推導出等差級數 n 項和的公式

$$S_n = \frac{n[2a_1 + (n-1)d]}{2},$$

並應用公式解題。

教學眉批

■ 將公式

$$a_n = a_1 + (n-1)d$$

代入公式

$$S_n = \frac{n(a_1 + a_n)}{2}$$

中, 可得 $S_n =$

$$\frac{n[2a_1 + (n-1)d]}{2}。$$

只知道首項、公差與項數時, 利用此公式較為方便。



會考觀測站 — 基礎演練題 搭配課文

1. 等差級數 $S_n = 3n^2 + 4n$, 則 $a_1 = \underline{7}$, $S_{10} = \underline{340}$ 。

2. 有一個等差級數的首項是 130, 公差是 -4 。若前 n 項的和為最大, 求 n 。 33

教學眉批

- 例題 3 有兩解法，宜分別講解後再比較其差異。
- 公式 $S_n = \frac{n[2a_1 + (n-1)d]}{2}$ 較為繁複，宜在課堂中時常請學生唸誦以便記憶。

轉Q 關鍵提問

- 此題有兩個解法，你喜歡用哪個呢？為什麼？
答：（由學生自行回答）。

放大 例 3 利用等差級數和的公式求和

配合習作 P8 基礎題 4

放大

提問

已知一個等差級數的首項為 3，公差為 -2，求此等差級數前 12 項的和。

解一 利用 $S_n = \frac{n(a_1 + a_n)}{2}$

思路分析

- (1) 先利用公式 $a_n = a_1 + (n-1)d$ ，求得 a_{12} 。
- (2) 再利用公式 $S_n = \frac{n(a_1 + a_n)}{2}$ ，求得總和。

首項 $a_1 = 3$ ，公差 $d = -2$ ，項數 $n = 12$ 。

代入公式 $a_n = a_1 + (n-1)d$ 得

$$a_{12} = 3 + (12-1) \times (-2) = 3 - 22 = -19$$

$$\text{因此 } S_{12} = \frac{12 \times [3 + (-19)]}{2} = -96,$$

故前 12 項的和為 -96。

放大

解二 利用 $S_n = \frac{n[2a_1 + (n-1)d]}{2}$

思路分析

已知首項、項數及公差，但不知道末項，可利用公式 $S_n = \frac{n[2a_1 + (n-1)d]}{2}$ 求和。

首項 $a_1 = 3$ ，公差 $d = -2$ ，項數 $n = 12$ 。

代入公式 $S_n = \frac{n[2a_1 + (n-1)d]}{2}$ 得

$$S_{12} = \frac{12 \times [2 \times 3 + (12-1) \times (-2)]}{2} = -96$$

故前 12 項的和為 -96。

放大

隨堂練習

解 已知一個等差級數的首項為 7，公差為 3，求此等差級數前 20 項的和。

$$a_1 = 7, d = 3, n = 20, \text{ 代入公式 } S_n = \frac{n[2a_1 + (n-1)d]}{2} \text{ 得}$$

$$S_{20} = \frac{20 \times [2 \times 7 + (20-1) \times 3]}{2} = \frac{20 \times (14 + 57)}{2} = 710$$

精熟



會考觀測站 — 精熟演練題 搭配例 4

1. 某一等差級數共有 19 項。若首項與末項的和為 24，則

$$a_6 + a_7 + a_{10} + a_{13} + a_{14} = \underline{60}。$$

- (D) 2. 有一個等差數列首項為 5，公差為 3，則此級數第 11 項到第 20 項的和為多少？

(A) 460 (B) 465 (C) 480 (D) 485

放大 例 4 代入公式求項數與公差

配合習作 P9 基礎題 5

已知一個等差級數的首項為 29，末項為 -22，和為 63，求其項數與公差。

解 設項數為 n ，公差為 d ，代入公式 $S_n = \frac{n(a_1 + a_n)}{2}$ 得

$$63 = \frac{n[29 + (-22)]}{2}, 7n = 126, n = 18$$

$$\text{又 } a_n = a_1 + (n-1)d$$

$$\text{所以 } -22 = 29 + (18-1)d$$

$$17d = -51, d = -3$$

故此等差級數的項數為 18，公差為 -3。

放大 隨堂練習

解 已知一個等差級數的首項為 -4，末項為 26，和為 121，求其項數與公差。

$a_1 = -4, a_n = 26, S_n = 121$ ，代入公式 $S_n = \frac{n(a_1 + a_n)}{2}$ 得

$$121 = \frac{n[(-4) + 26]}{2}, n = 11, \text{代入公式 } a_n = a_1 + (n-1)d \text{ 得}$$

$$26 = (-4) + (11-1)d, 26 = -4 + 10d, d = 3$$

放大 例 5 代入公式求項數

配合習作 P9 基礎題 7

等差級數 $-2 + 2 + 6 + \dots$ 前 n 項的和為 126，求 n 。

解 首項 $a_1 = -2$ ，公差 $d = 2 - (-2) = 4$ ，前 n 項的和 $S_n = 126$ 。

代入公式 $S_n = \frac{n[2a_1 + (n-1)d]}{2}$ 得

$$126 = \frac{n[2 \times (-2) + (n-1) \times 4]}{2}$$

$$4n^2 - 8n - 252 = 0$$

$$n^2 - 2n - 63 = 0$$

$$(n-9)(n+7) = 0$$

$n = 9$ 或 $n = -7$ (不合)，故 $n = 9$ 。

基礎

教學眉批

■ 例題 4 先由等差級數和的公式

$$S_n = \frac{n(a_1 + a_n)}{2}$$

求出項數 n ，再代入公式

$$a_n = a_1 + (n-1)d$$

解題。

■ 例題 5 是直接利用公式 $S_n =$

$$\frac{n[2a_1 + (n-1)d]}{2}$$

解題。



會考觀測站 — 基礎演練題 搭配例 4、6

1. 某一等差級數共有 21 項。若第 11 項為 30，則此等差級數和為 630。
2. 已知一個等差級數的首項是 72，末項是 6，和為 468，則此級數共有幾項？

12 項

 教學眉批

- 此類題型常會有較繁雜的一元二次方程式要化簡與求解，教師宜鼓勵學生解題要細心與耐心。
- 隨堂練習 2 的 n 有兩個答案，教師可提出此點讓學生討論其理由。

 放大  隨堂練習

解

1. 等差級數 $1+5+9+\cdots$ 前 n 項的和為 153，求 n 。

$$a_1=1, d=4, S_n=153, \text{ 代入公式 } S_n = \frac{n[2a_1+(n-1)d]}{2} \text{ 得}$$

$$153 = \frac{n[2 \times 1 + (n-1) \times 4]}{2}$$

$$n(2n-1) = 153, 2n^2 - n - 153 = 0,$$

$$(n-9)(2n+17) = 0, n=9 \text{ 或 } n = -\frac{17}{2} \text{ (不合), 故 } n=9$$

解

2. 等差級數 $(-76)+(-68)+(-60)+\cdots$ 前 n 項的和為 -384 ，求 n 。

$$a_1 = -76, d = 8, S_n = -384, \text{ 代入公式 } S_n = \frac{n[2a_1+(n-1)d]}{2} \text{ 得}$$

$$-384 = \frac{n[2 \times (-76) + (n-1) \times 8]}{2}$$

$$n(4n-80) = -384, n^2 - 20n + 96 = 0, (n-8)(n-12) = 0, n=8 \text{ 或 } n=12$$



補給站 等差級數和的公式

等差級數和的公式，也可以推導成其他不同的形式：

$$a_1 = a_1$$

$$a_2 = a_1 + d$$

$$a_3 = a_1 + 2d$$

$$\vdots$$

$$a_n = a_1 + (n-1)d$$

將上面的式子相加，可得

$$a_1 + a_2 + a_3 + \cdots + a_n = n \cdot a_1 + [d + 2d + \cdots + (n-1)d]$$

$$= n \cdot a_1 + [1 + 2 + \cdots + (n-1)]d$$

$$= n \cdot a_1 + \frac{[1 + (n-1)](n-1)}{2} d$$

$$= n \cdot a_1 + \frac{n(n-1)}{2} d$$

$$\text{即 } S_n = n \cdot a_1 + \frac{n(n-1)}{2} d.$$

基礎



備課教學資源



會考觀測站 - 基礎演練題

搭配隨堂

■ 隨堂輕鬆考第 4 回

1. 等差級數 $(-20) + (-3) + 14 + \cdots$ 前 n 項的和為多少？(以 n 的多項式表示)

$$\frac{n(17n-57)}{2}$$

2. 等差級數 $(-28) + (-25) + (-22) + \cdots$ 加到第幾項時，其和為最小值？

第 10 項

放大例 6 等差級數的應用 基會

配合習作 P10 基礎題 8

一架直升機空拋救災物資，第 1 秒落下 4.9 公尺，以後落下的距離每秒增加 9.8 公尺（即第 2 秒落下 $4.9+9.8=14.7$ 公尺，第 3 秒落下 $4.9+9.8+9.8=24.5$ 公尺）。如果救災物資空拋 6 秒後剛好到達地面，求當時直升機離地面的高度。


解 第 6 秒落下的距離為 $4.9+(6-1)\times 9.8=53.9$ (公尺)

所以救災物資每秒落下的距離依次為

4.9 公尺, 14.7 公尺, 24.5 公尺, …… , 53.9 公尺, 成等差數列。

$$\text{其和為 } S_6 = \frac{6 \times (4.9 + 53.9)}{2} = 176.4 \text{ (公尺)}$$

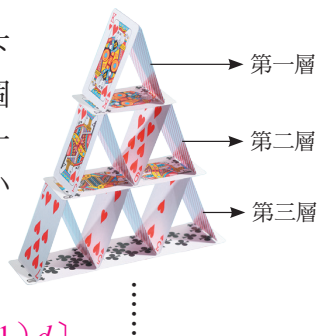
所以直升機離地面的高度為 176.4 公尺。



放大隨堂練習

提問
解

用撲克牌堆疊的高塔中，小三角形的數量由上而下逐層增加，第一層有 1 個小三角形，第二層有 3 個小三角形，……，每層的小三角形個數依序形成一個有規律的數列。如果排了 10 層，總共會有幾個小三角形？



$$a_1=1, d=2, n=10, \text{ 代入公式 } S_n = \frac{n[2a_1+(n-1)d]}{2} \text{ 得}$$

$$S_{10} = \frac{10 \times [2 \times 1 + (10-1) \times 2]}{2} = 100$$

所以 10 層總共有 100 個小三角形。

精熟

活動 4 應用等差級數解決生活中的問題。

教學眉批

■ 例題 6 是自由落體運動。其公式為 $H = \frac{1}{2}gt^2$ 。

(H : 落下的距離 ; g : 重力加速度, 約為 9.8 公尺/秒² ; t : 時間)

■ 例題 6 另解 :

$$S_6 = \frac{6[2 \times 4.9 + (6-1) \times 9.8]}{2}$$

■ 隨堂練習教師可加問總共用了幾張撲克牌。(解 : $3+6+9+\dots+30$)

基會試題

- 91 基測 I 第 11 題
- 104 會考第 17 題

轉Q 關鍵提問

- 如果排了 5 層，總共會有幾個小三角形呢？
答 : 25 個。

會考觀測站 — 精熟演練題 搭配例 7

- 聯歡晚會抽獎活動共抽出 10 個獎項，各獎為面額成等差數列的圖書禮券，公差為 100 元，總值 15500 元。若翰翰得到最小獎，則他可得到面額 1100 元的圖書禮券。

教學眉批


- 重新布題時，宜注意所得一元二次方程式的求解難易度。
- 改變圖形時，可考慮以三角形數的圖形來命題，如：



或其變化，如：



及



放大 例 7 等差級數的應用

配合習作 P10 基礎題 9

大偉設計工藝作品時，在長方形紙板上有規律的打洞，如圖：

第 1 張紙板的洞形成 1 個口字，

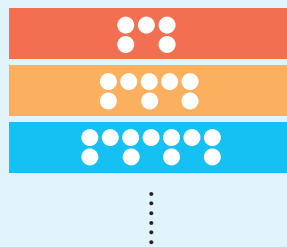
第 2 張紙板的洞形成 2 個相連的口字，

第 3 張紙板的洞形成 3 個相連的口字，

⋮

第 n 張紙板的洞形成 n 個相連的口字。

已知大偉在所有紙板上總共打了 185 個洞，求 n 。



解

由 第 1 張紙板 第 2 張紙板 第 3 張紙板

發現每張紙板依序增加 3 個洞，因此每張紙板上的洞數，形成

公差為 3 的等差數列，其首項 $a_1=5$ ，項數 n ，前 n 項的和 $S_n=185$

代入公式 $S_n = \frac{n[2a_1 + (n-1)d]}{2}$ 得 $185 = \frac{n[2 \times 5 + (n-1) \times 3]}{2}$

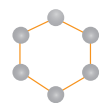
$$3n^2 + 7n - 370 = 0$$

$$(n-10)(3n+37) = 0$$

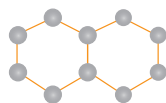
$$n=10 \text{ 或 } n = -\frac{37}{3} \text{ (不合), 故 } n=10.$$

放大 隨堂練習

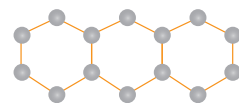
解



圖一



圖二



圖三

⋯

上方各圖是由牙籤與保麗龍小球所串成。圖一為 1 個正六邊形，圖二為 2 個相連的正六邊形，⋯，圖 n 為 n 個相連的正六邊形。若圖一至圖 n 共用去 286 顆保麗龍小球，求 n 。

$a_1=6$ ， $d=4$ ， $S_n=286$ ，代入公式 $S_n = \frac{n[2a_1 + (n-1)d]}{2}$ 得

$$286 = \frac{n[2 \times 6 + (n-1) \times 4]}{2}$$

$$n^2 + 2n - 143 = 0, (n+13)(n-11) = 0, n=11 \text{ 或 } n=-13 \text{ (不合)}$$

基礎

備課教學資源

- 隨堂輕鬆考第 5 回
- 免試基礎講堂 1-2
- 免試精熟本 1-2



會考觀測站 — 基礎演練題

搭配例 7

- 有一個用鋼珠堆成的梯形，第一層有 534 個鋼珠，第二層有 526 個鋼珠，⋯，每一層都比前一層少 8 個鋼珠，如此往下，一直堆到不能再堆為止，則：
 - 此梯形共有幾層？ **67 層**
 - 共有多少個鋼珠？ **18090 個**

重點回顧



放大 1 級數：將數列的各項用加號「+」連接而成的式子稱為級數。

例 $1+3+(-1)+(-5)$ 是一個級數。

放大 2 等差級數：當 $a_1, a_2, a_3, \dots, a_n$ 為等差數列時， $a_1+a_2+a_3+\dots+a_n$ 為等差級數。

例 $5+10+15+20+25+30$ 是一個等差級數。

放大 3 等差級數和的公式：

(1) 如果一個等差級數的首項為 a_1 ，末項為 a_n ，則此等差級數前 n 項的和為 $S_n = \frac{n(a_1+a_n)}{2}$ ，即等差級數的和為 $\frac{\text{項數} \times (\text{首項} + \text{末項})}{2}$ 。

(2) 將 $a_n = a_1 + (n-1)d$ 代入公式 $S_n = \frac{n(a_1+a_n)}{2}$ ，
可得 $S_n = \frac{n[2a_1 + (n-1)d]}{2}$ 。

例 等差級數 $5+10+15+20+25+30$ ($a_1=5, a_6=30, d=5$) 的和為

$$S_6 = \frac{6}{2}(a_1+a_6) = \frac{6}{2}(5+30) = 105 \text{ 或}$$

$$S_6 = \frac{6}{2}[2a_1 + (6-1)d] = \frac{6}{2}[2 \times 5 + 5 \times 5] = 105$$

$$\blacksquare S_n = \frac{n(a_1+a_n)}{2}$$

亦可視為

$$S_n = n \left(\frac{a_1+a_n}{2} \right)$$

a_1 、 a_n 的等差中項利用等差中項處理等差級數的問題，也是常用的方法。

等差級數前 n 項的和 =

$$\frac{\text{項數} \times [2 \times \text{首項} + (\text{項數}-1) \times \text{公差}]}{2}$$



數學小語錄

沒有知識的人總愛議論別人的無知，而知識豐富的人卻時時發現自己的無知。

— 笛卡兒 (René Descartes, 1596-1650)

基礎



會考觀測站 — 基礎演練題 搭配重點回顧

■ 等差級數 $(a-2b) + (3a-4b) + \dots$ 前 10 項的和為 $100a-110b$ 。

 教學眉批

- 第1題的各小題中， a_1 與 a_n 都是已知，因此透過

$$a_n = a_1 + (n-1)d$$

求出 n ，再代入

$$S_n = \frac{n(a_1 + a_n)}{2}。$$

- 第2題中4的倍數形成公差為4的等差數列，其一般項 $a_n = 4n$ 。

 基會試題

- 92 基測 II 第 18 題
- 97 基測 II 第 18 題
- 98 基測 I 第 27 題
- 103 會考第 23 題

1-2 自我評量

放大 1 求等差級數 $74 + 67 + 60 + \dots + (-10)$ 的和。

課 P28 例 3

解

$$a_1 = 74, d = -7, a_n = -10, \text{ 代入公式 } a_n = a_1 + (n-1)d \text{ 得}$$

$$-10 = 74 + (n-1) \times (-7)$$

$$n = 13$$

$$\text{代入公式 } S_n = \frac{n(a_1 + a_n)}{2} \text{ 得 } S_{13} = \frac{13 \times [74 + (-10)]}{2} = 416$$

放大 2 求 1 至 1000 的整數中，所有 4 的倍數的和。

課 P30 例 4

解

$$a_1 = 4, d = 4, a_n = 1000, \text{ 代入公式 } a_n = a_1 + (n-1)d \text{ 得}$$

$$1000 = 4 + (n-1) \times 4$$

$$n = 250$$

$$\text{代入公式 } S_n = \frac{n(a_1 + a_n)}{2} \text{ 得 } S_{250} = \frac{250 \times (4 + 1000)}{2} = 125500$$

答：125500。

放大 3 已知一個等差級數的首項為 5，末項為 138，和為 1430，求此等差級數的項數與公差。

課 P31 例 5

解

$$a_1 = 5, a_n = 138, S_n = 1430, \text{ 代入公式 } S_n = \frac{n(a_1 + a_n)}{2} \text{ 得}$$

$$1430 = \frac{n(5 + 138)}{2}, n = 20$$

$$\text{代入公式 } a_n = a_1 + (n-1)d \text{ 得}$$

$$138 = 5 + (20-1)d, d = 7$$

答：項數為 20，公差為 7。

放大 4 等差級數 $15 + 18 + 21 + \dots$ 前 n 項的和為 600，求 n 。

課 P31 例 6

解

$$a_1 = 15, d = 3, S_n = 600, \text{ 代入公式 } S_n = \frac{n[2a_1 + (n-1)d]}{2} \text{ 得}$$

$$600 = \frac{n[2 \times 15 + (n-1) \times 3]}{2}$$

$$1200 = n(3n + 27), n^2 + 9n - 400 = 0$$

$$(n-16)(n+25) = 0, n = 16 \text{ 或 } n = -25 \text{ (不合)}$$

答：16。

精熟

 備課教學資源

- 會考 100 分 1-2
- 會考基礎卷 1-2
- 會考精熟卷 1-2
- 段考精選試題 1-2



會考觀測站 — 精熟演練題

搭配自評第 5 題

- 一個等差級數的第 n 項為 a_n ，若 $a_1 + a_3 + a_5 + a_7 + a_9 = 240$ ， $a_2 + a_4 + a_6 + a_8 + a_{10} = 220$ ，則 $a_1 = \underline{64}$ 。
- 在 15 與 -5 之間插入 n 個數，使其成爲一個等差數列。若插入的 n 個數，其總和爲 200，則 $n = \underline{40}$ 。

放大 5 已知一個等差級數的第 4 項為 15，第 7 項為 27，和為 903，求此等差級數的首項、公差與項數。

課 P30~31 例 4~6

解

$$\begin{cases} a_1 + 3d = 15 \cdots \cdots \textcircled{1} \\ a_1 + 6d = 27 \cdots \cdots \textcircled{2} \end{cases} \quad \textcircled{2} \text{式} - \textcircled{1} \text{式} \text{得 } 3d = 12, d = 4$$

代入①式得 $a_1 = 3$

代入公式 $S_n = \frac{n[2a_1 + (n-1)d]}{2}$ 得 $903 = \frac{n[2 \times 3 + (n-1) \times 4]}{2}$

$$2n^2 + n - 903 = 0, (n-21)(2n+43) = 0, n = 21 \text{ 或 } n = -\frac{43}{2} \text{ (不合)}$$

答：首項為 3，公差為 4，項數為 21。

放大 6 全民影城共有 25 排座位，自第二排起，每一排比前一排多 2 個座位。已知最後一排有 80 個座位，則全民影城共有多少個座位？

課 P34 例 8

解



$$a_1 = 80, d = -2, n = 25$$

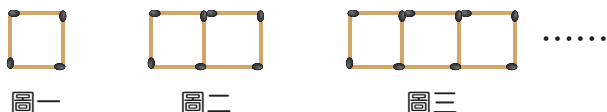
代入公式 $S_n = \frac{n[2a_1 + (n-1)d]}{2}$ 得

$$S_{25} = \frac{25 \times [2 \times 80 + (25-1) \times (-2)]}{2} = 1400$$

答：1400 個。

放大

7



圖一

圖二

圖三

解



上方各圖是由火柴棒排成的正方形所組成，圖一有 1 個正方形，圖二有 2 個正方形，……，圖 n 有 n 個正方形。若圖一至圖 n 共用去 175 根火柴棒，則圖 n 用了幾根火柴棒？

課 P34 例 8

$$a_1 = 4, d = 3, S_n = 175, \text{ 代入公式 } S_n = \frac{n[2a_1 + (n-1)d]}{2} \text{ 得}$$

$$175 = \frac{n[2 \times 4 + (n-1) \times 3]}{2}$$

$$3n^2 + 5n - 350 = 0, (n-10)(3n+35) = 0, n = 10 \text{ 或 } n = -\frac{35}{3} \text{ (不合)}$$

代入公式 $a_n = a_1 + (n-1)d$ 得

$$a_{10} = 4 + (10-1) \times 3 = 31$$

答：31 根。

基礎

教學眉批

- 第 5 題是等差數列與等差級數的綜合應用題，先求出 a_1 與 d ，再求 n 。
- 第 5 題的難處在於解一元二次方程式 $2n^2 + n - 903 = 0$ ，其解法可利用十字交乘法分解如下：

$$\begin{array}{r} 2n \quad \times \quad 43 \\ n \quad \times \quad -21 \\ \hline -42n + 43n = n \end{array}$$



會考觀測站 — 基礎演練題 搭配自評第 5 題

- 有一個等差級數 $a_1 + a_2 + a_3 + \cdots + a_n$ 。若 $a_{50} + a_{51} = 70$ ，則 $S_{100} = \underline{3500}$ 。
- 一個等差級數共有 8 項，第 4 項為 19，且末項比首項小 35，則此等差級數和為 $\underline{132}$ 。



備課教學資源

- 會考 100 分第 1 章
- 會考基礎卷第 1 章
- 會考精熟卷第 1 章
- 隨堂輕鬆考第 6、7 回